











Actividades para 4° grado Matemática

“El reloj”

Completa cada ejercicio:

a)  2:00 <i>dos en punto</i>	b)  _____	c)  _____
d)  _____	e)  _____	f)  _____
g)  _____ : _____ ocho en punto	h)  _____ y media	i)  9:30

- Dibuja un reloj para cada horario:
 - Me levanto todos los días a las:
 - Salgo de la escuela a las:
 - Juego desde las:



Actividades para 4° grado Matemática

“Cálculos mentales”

- Resolver los siguientes cálculos con la mente
- Una vez logrados, desafía a los integrantes de tu familia que también lo hagan

Cálculo Mental

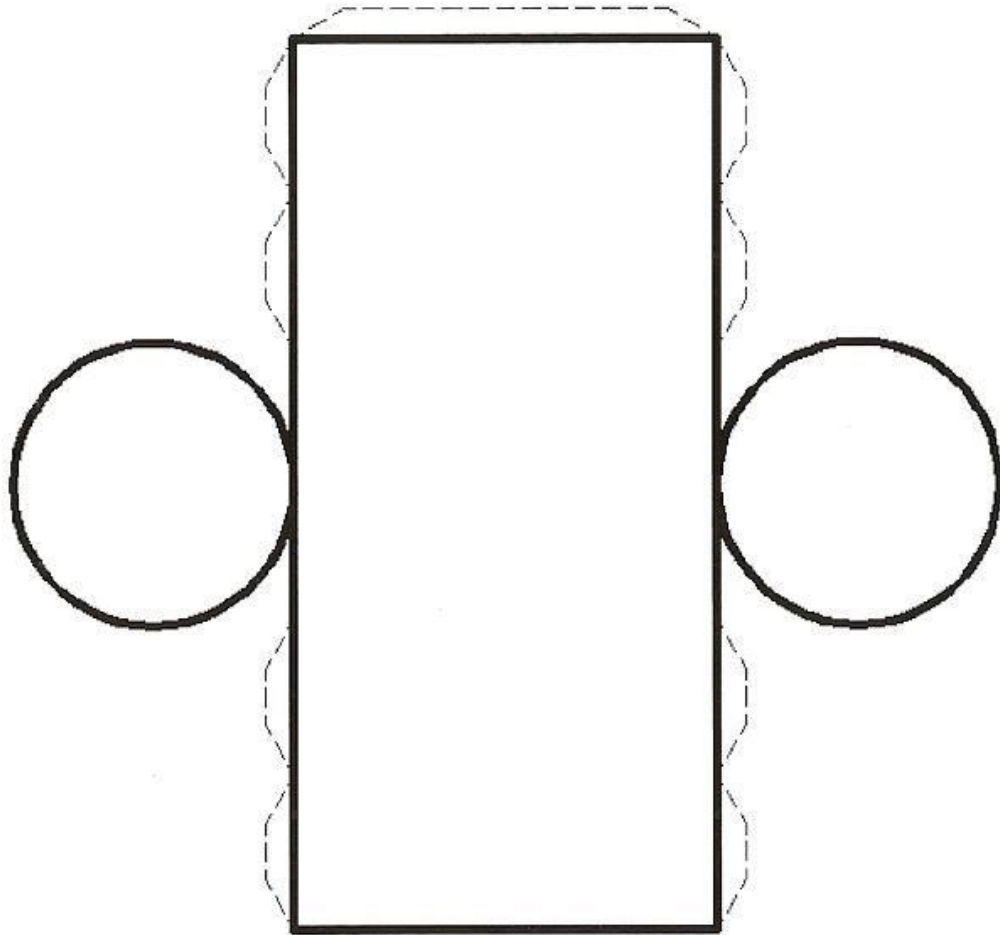
$25 + \square = 75$	$200 - \square = 125$
$34 + \square = 80$	$55 - 25 = \square$
$65 + 24 = \square$	$90 - \square = 65$
$150 + \square = 280$	$81 - 15 = \square$
$65 + 24 = \square$	$78 - \square = 70$

$8 \times 3 = \underline{\quad}$	$5 \times 7 = \underline{\quad}$	$3 \times 4 = \underline{\quad}$	$3 \times 4 = \underline{\quad}$
$2 \times 2 = \underline{\quad}$	$7 \times 2 = \underline{\quad}$	$6 \times 7 = \underline{\quad}$	$2 \times 7 = \underline{\quad}$
$8 \times 7 = \underline{\quad}$	$6 \times 4 = \underline{\quad}$	$4 \times 9 = \underline{\quad}$	$8 \times 6 = \underline{\quad}$
$4 \times 8 = \underline{\quad}$	$9 \times 9 = \underline{\quad}$	$6 \times 9 = \underline{\quad}$	$6 \times 5 = \underline{\quad}$
$8 \times 10 = \underline{\quad}$	$7 \times 6 = \underline{\quad}$	$4 \times 2 = \underline{\quad}$	$9 \times 3 = \underline{\quad}$

Actividades para 4° grado Matemática

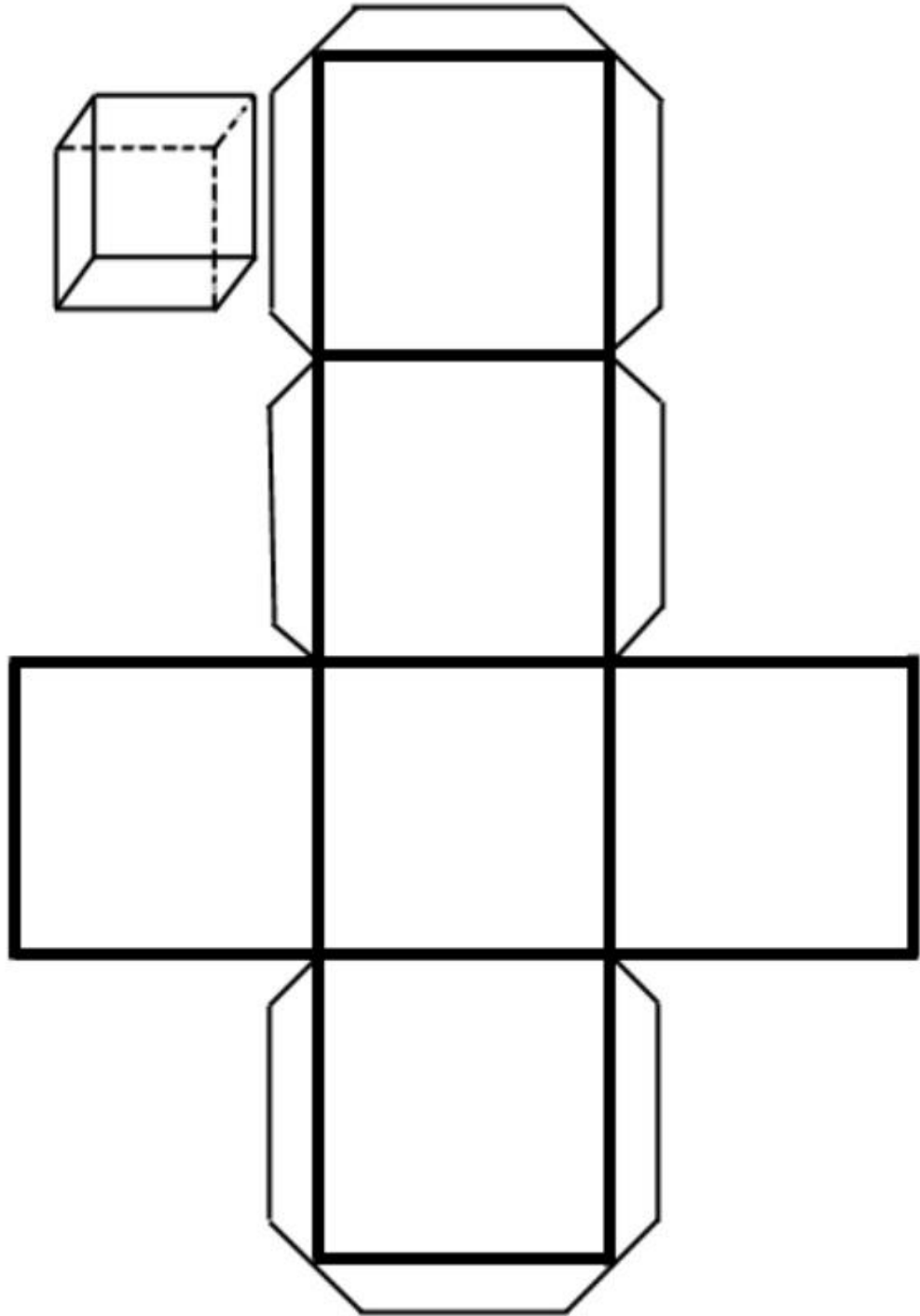
“Elaboración de cuerpos geométricos”

- Con ayuda de los siguientes moldes fabricá tus propios cuerpos geométricos con los materiales que tengas en casa: cartón, cartulina, paquete de yerba, tapa de cuaderno viejo, lo que se te ocurra.



CILÍNDRRO

CUBO



Actividades para 4° grado Matemática

“Componer y descomponer”

1.546 =	1.000 +	500 +	40 +	
1.789 =	1.000 +	+	80 +	9
1.940 =	+	+	40 +	0
3.599 =	+	500 +	+	
8.069 =	+	+	+	9
6.006 =	+	500 +	+	

- Completar cada tabla con los datos que falten

=	20.000 +	3.000 +	400 +	2
=	30.000 +	4.000 +	300 +	0
=	80.000 +	7.000 +	700 +	1
=	90.000 +	4.000 +	900 +	0
=	10.000 +	7.000 +	500 +	4
=	50.000 +	1.000 +	200 +	6